

Adı :
Soyadı:

2. Sınıf Matematik

Uzunluk Ölçme-3



Bir nesnenin uzunluğunu karış, ayak, adım, kulaç ile ölçebiliriz.

Ancak herkesin ölçüleri standart (eşit) olmadığından farklı sonuçlar çıkar.



Metre ve cetvel standarttır. Yani herkesin metresi ve cetveli eşittir.

Bir nesnenin uzunluğunu ölçmek için cetvel ya da metre kullanmak daha doğrudur.

Standart ölçme araçlarının isimlerini yazalım.



Gönye



Cetvel



Şerit Metre




Mezura




Kırık Metre


Aşağıdaki kalemelerin uzunluklarını yazınız.



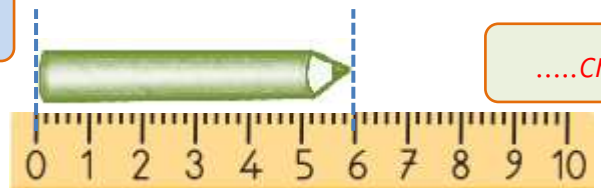
.....cm



.....cm



.....cm



.....cm

Adı :
Soyadı:

2. Sınıf Matematik

Uzunluk Ölçme-3

Aşağıdaki çubukların uzunluklarını cetvel ile ölçüm yazınız.



Cetvelle ölçerken
nesnenin bir
ucunu tam olarak
0'ın (sıfır)
çizgisine getirmeyi


Diğer ucu hangi sayıya
denk geldiyse nesnenin
uzunluğunu buluruz.



..... cm



..... cm



..... cm



.....



.....



.....



.....

En uzun çubuk renklidir.
Uzunluğu santimetredir.

En kısa çubuk renklidir.
Uzunluğu santimetredir.

Yeşil çubuk pembe çubuktancm daha
.....

Kırmızı çubuk mavi çubuktancm
daha